


【見る記憶】

記憶用



解答用

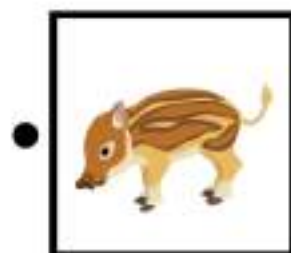




【常識①】

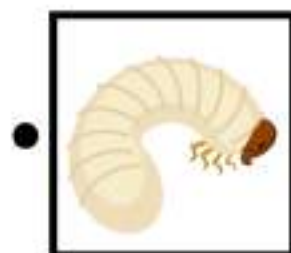



【常識②】

①




②



【模写】

①



②



【鏡】

①



②



【鏡】

①



②



【話の聞き取り】

①

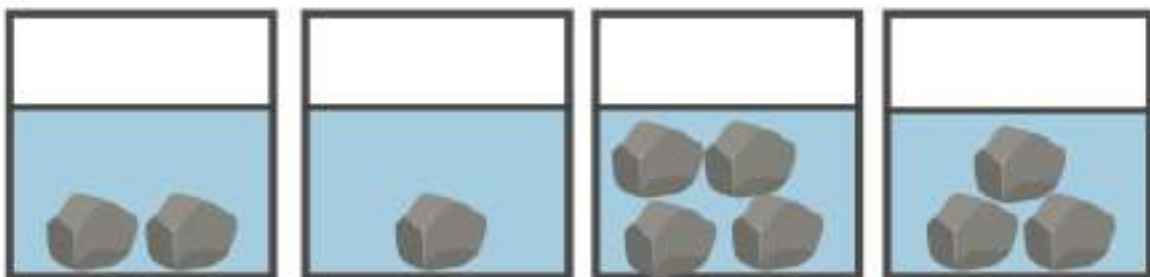


②

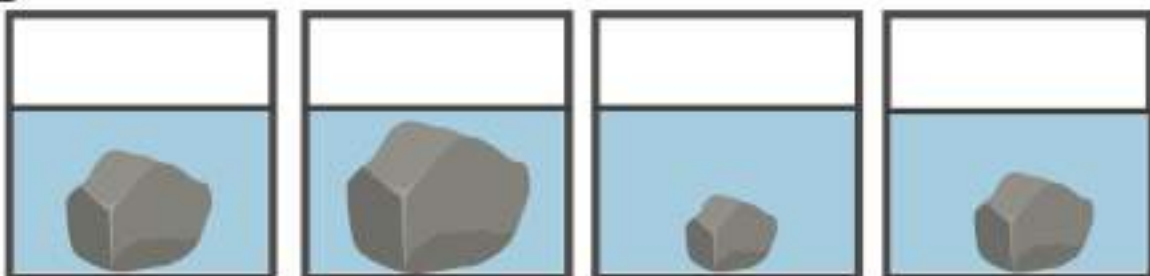


【水の量】

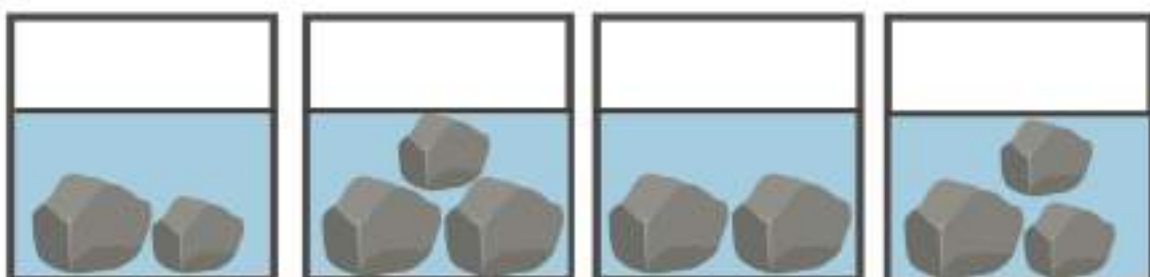
①



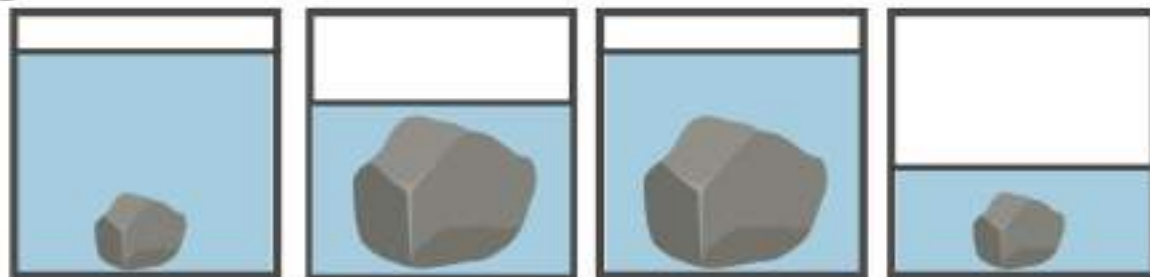
②



③




④



【指示迷路】

①


スタート ⇒



⇒ ゴール

②

スタート ⇒



⇒ ゴール



ペーパーテスト

鉛筆を使います。

間違えた場合は、消しゴムで消します。

- 【見る記憶】 記憶用の絵をよく見て覚えましょう。覚えたものと同じ形に○をつけましょう。
- 【常識①】 枝にできる野菜はどれですか。○をつけましょう。
- 【常識②】 親と子の関係にあるものはどれですか。線でつなぎましょう。
- 【模写】 たての線のところで折った絵があります。開くとどのような形になりますか。線の反対側に書きましょう。
- 【鏡】 鏡に人やものが映っています。鏡の前には、どのように立っていますか。4つの中から選び、○をつけましょう。
- 【話の聞き取り】 夏休みにまゆちゃんは、お父さんとお母さん、弟のゆうとくんとサーカスを見に電車で行きました。とても暑い日だったのでサーカスを見る前に、レストランでみんなでアイスを食べました。サーカスへ着くと、お友達のりかちゃんとりかちゃんのおじいちゃんとおばあちゃんに会いました。まゆちゃんは、どのショーもドキドキワクワクとても楽しく見ました。とくに面白かったのは、ゾウとクマのショーでした。帰日も電車で帰りましたが、家につくころにはもう夕方になっていました。
- 《 問題 》
- ①まゆちゃんがとくに面白いと思ったショーはどれですか。○をつけましょう。
- ②お話に何人でてきましたか。その数だけ○を書きましょう。
- 【水の量】 それぞれの水槽に石が入っています。水槽のそうじをするため、石を全部取り出します。石がなくなった水槽の水の量が一番多いものはどれですか。○をつけましょう。
- 【指示迷路】 ①スタートからリンゴ、ミカンの順に進み、ゴールまで線でたどりましょう。
②スタートから星・三角・ハートの順に進み、ゴールまで線でたどりましょう。



【解答】

<p>【図の記憶】</p> <p>①</p> <p>②</p> <p>③</p>	<p>【図の記憶】</p>	<p>【図の記憶】</p>										
<p>【図の記憶】</p> <p>①</p> <p>②</p>	<p>【図の記憶】</p> <p>①</p> <p>②</p> <p>③</p>	<p>【図の記憶】</p> <p>①</p> <p>②</p>										
<p>【図の記憶】</p> <p>①</p> <p>②</p> <table border="1" style="width: 100%; text-align: center;"> <tr> <td>○</td> <td>○</td> <td>○</td> <td>○</td> <td>○</td> </tr> <tr> <td>○</td> <td>○</td> <td></td> <td></td> <td>⑦</td> </tr> </table>	○	○	○	○	○	○	○			⑦	<p>【水の量】</p> <p>①</p> <p>②</p> <p>③</p> <p>④</p>	<p>【図の記憶】</p> <p>①</p> <p>②</p>
○	○	○	○	○								
○	○			⑦								