



下の食べものも上の食べものと数が同じ数ずつ、分けて分けます。1人分はいくつになりますか。その数だけ、箱の枠に○を書きましょう。

まなびん



下の食べものも上の食べものと数が同じ数ずつ、分けて分けます。1人分はいくつになりますか。その数だけ、箱の枠に○を書きましょう。


まなびん



下の食べものも上の食べものと数が同じ数ずつ、分けて分けます。1人分はいくつになりますか。その数だけ、箱の枠に○を書きましょう。

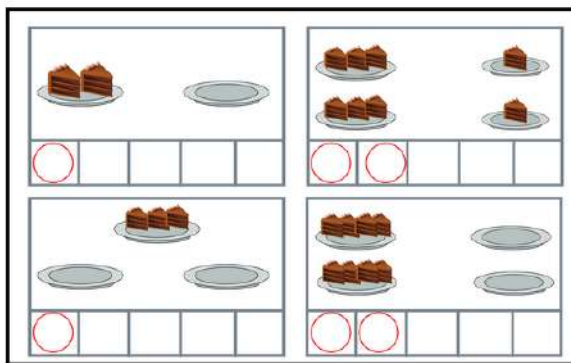
まなびん

分野別毎日プリント (数の分割) No4-3 page4



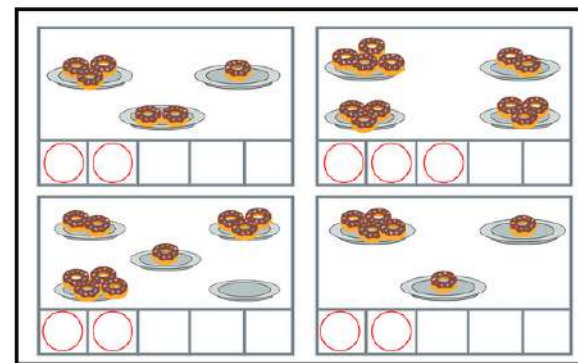
下の食べものも上の食べものと数が同じ数ずつ、分けて分けます。1人分はいくつになりますか。その数だけ、箱の枠に○を書きましょう。

まなびん



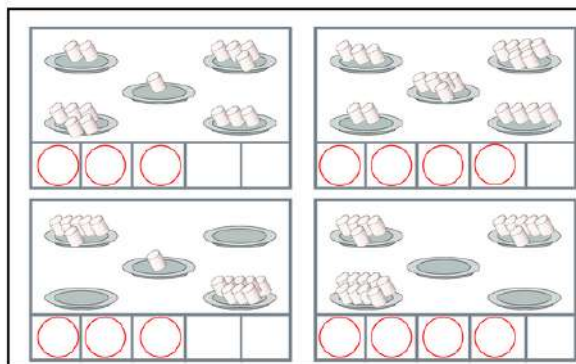
お皿にのっているケーキを半分ずつ同じ数になるようにすると、1つのお皿には残ったケーキになりますか。その数だけ、箱の枠に○を書きましょう。

まなびん




お皿にのっているドーナツを半分ずつ同じ数になるようにすると、1つのお皿には残ったドーナツになりますか。その数だけ、箱の枠に○を書きましょう。

まなびん



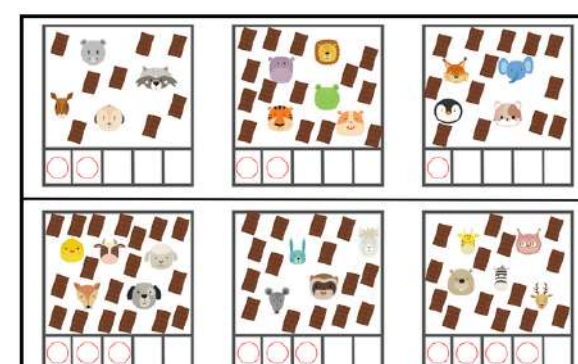
お皿にのっているマシュマロを半分ずつ同じ数になるようにすると、1つのお皿には残ったマシュマロになりますか。その数だけ、箱の枠に○を書きましょう。

まなびん



下の食べものも上の食べものと数が同じ数ずつ、分けて分けます。1人分はいくつになりますか。その数だけ、箱の枠に○を書きましょう。

まなびん



動物たちのチョコレートおやつを半分ずつ同じ数になるようにすると、1つのお皿には残ったチョコレートおやつになりますか。その数だけ、箱の枠に○を書きましょう。

まなびん

まなびん

